

ATENÇÃO: É HORA DA SUBTRAÇÃO! PARA APRENDER É PRECISO APRIMORAR. E PARA ISSO, O MELHOR É RELEMBRAR.

ESCREVA OS NUMERAIS EM ORDEM CRESCENTE DE 1 A 9 NO CORPINHO DA CENTOPEIA.



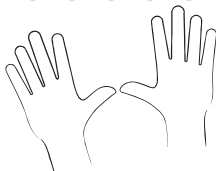
AGORA, COLOQUE APENAS OS NÚMEROS PARES 2, 4, 6 E 8 NA CENTOPEIA BEBÊ.



ENTÃO, PARA REFORÇAR: A SUBTRAÇÃO É UMA OPERAÇÃO MATEMÁTICA QUE POSSUI FUNÇÃO DE TIRAR, DIMINUIR OU SUBTRAIR UMA PARTE DE UM TODO.

tilibra

SABIA QUE VOCÊ PODE USAR SUAS MÃOS PARA AJUDAR NAS CONTINHAS?



OLHE PARA O EXEMPLO E RESPONDA:

QUANTOS DEDOS HÁ NAS DUAS MÃOS? **10**

AGORA, ESCONDA UMA DELAS E CONTE NOVAMENTE QUANTOS DEDOS RESTARAM.

QUAL É O RESULTADO? **5**

SISTEMATIZANDO, A CONTINHA FICA ASSIM: **10 - 5 = 5** SOBARAM 5 DEDINHOS

E SE VOCÊ SUBTRAIR MAIS UM DEDO, QUANTOS SOBARAM?

$$5 - 1 = 4$$



tilibra

DURANTE UM JOGO DE BASQUETE NA ESCOLA SORRISO FELIZ, UM GRUPO DE AMIGOS SE DESTACOU COM AS MELHORES PONTUAÇÕES.

PINTE O QUADRO ABAIXO COM TOTAL DE PONTOS QUE CADA UM DELES MARCOU:


PAULO: 12 PONTOS	ZECA: 15 PONTOS	ANTÔNIO: 9 PONTOS	LUCCA: 11 PONTOS
1			
2			
3			
4			
5			
6			
7			
8			
9			
10			
11			
12			
13			
14			
15			

QUEM MARCOU MAIS PONTOS? **ZECA**
QUEM MARCOU MENOS PONTOS? **ANTÔNIO**

tilibra

VAMOS APRENDER COM UMA DIVERTIDA HISTÓRIA?

SEIS GATINHOS ESTAVAM BRINCANDO EM UMA ALMOFADA. MAS, LOGO QUE PEDRINHO CHEGOU, DOIS DELES FORAM RECEBER CARINHO DO MENINO. OS OUTROS GATINHOS PERMANECERAM NA ALMOFADA.



AGORA, RESPONDA:
QUANTOS GATINHOS ESTAVAM BRINCANDO NA ALMOFADA? **6**
QUANDO PEDRINHO CHEGOU, QUANTOS GATINHOS FORAM ATÉ ELE? **2**
QUANTOS GATINHOS CONTINUARAM NA ALMOFADA? **4**

LEMBRE-SE: A AÇÃO DE TIRAR UMA PARTE DO TODO CHAMA-SE SUBTRAÇÃO. SISTEMATIZE A CONTINHA:

$$6 - 2 = 4$$

tilibra

COMO UM BOM DETETIVE, VOCÊ DEVE SOLUCIONAR OS PROBLEMAS ABAIXO! VEJA O PRIMEIRO EXEMPLO E PREPARE-SE PARA OS PRÓXIMOS MISTÉRIOS.



MARINA COMPROU 8 BALÕES PARA ENFEITAR SUA FESTA DE ANIVERSÁRIO, MAS 2 DELES ACABARAM ESTOURANDO. QUANTOS BALÕES RESTARAM?

TOTAL DE BALÕES = 8
BALÕES ESTOURADOS = 2
RESTARAM = 6



OPERAÇÃO MATEMÁTICA
 $8 - 2 = 6$

VOVÓ COMPROU 10 OVOS PARA O JANTAR. AO ABRIR A CAIXA, NOTOU QUE TRÊS DELES ESTAVAM QUEBRADOS. QUANTOS OVOS INTEIROS SOBARAM?



OPERAÇÃO MATEMÁTICA
 $10 - 3 = 7$

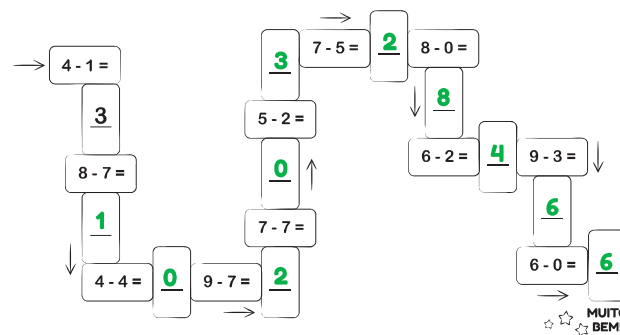
LUIZ GANHOU 4 IOIÓS DO TIO ALBERTO, MAS ACABOU PERDENDO 1 DELES NA RUA. QUANTOS IOIÓS LUIZ TEM AGORA?



OPERAÇÃO MATEMÁTICA
 $4 - 1 = 3$

tilibra

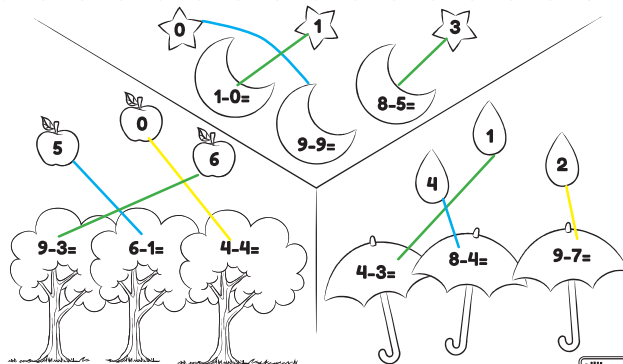
BRINCANDO PARA APRENDER: RESOLVA AS SUBTRAÇÕES E AVANCE PARA CHEGAR AO FINAL. A DICA É TER PACIÊNCIA E MUITA CONCENTRAÇÃO. VOCÊ CONSEGUE!



MUITO BEM!

tilibra

RESOLVA AS CONTINHAS DE SUBTRAÇÃO. DEPOIS, LIGUE AS FIGURAS AOS RESULTADOS CORRETOS.



tilibra

VAMOS DIFICULTAR UM POUQUINHO? VOCÊ ESTÁ INDO MUITO BEM!

GUI TINHA QUATRO PIRULITOS E COMEU DOIS. QUANTOS SOBARAM?



RESPOSTA: **2**

JOÃO GANHOU 8 PIPAS E DEU 6 PARA UM AMIGO. QUANTAS PIPAS JOÃO TEM AGORA?



RESPOSTA: **2**

NO JOGO DE FUTEBOL, MARCELO DEU 9 CHUTES E 6 NÃO ENTRARAM NO GOL. QUANTOS GOLS MARCELO MARCOU?



RESPOSTA: **3**

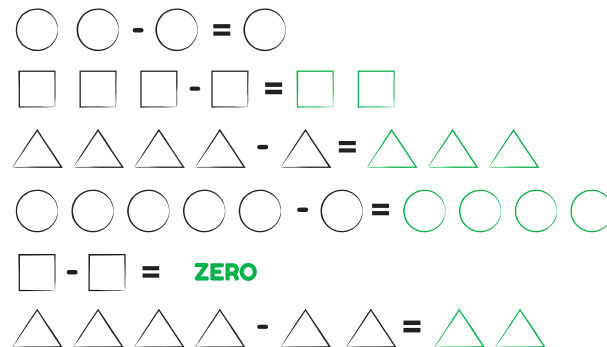
DURANTE UMA SEMANA, MAMÃE ANOTOU NO CALENDÁRIO OS 3 DIAS DE CHUVA. RESPONDA: QUANTOS DIAS NÃO CHOVEU?



RESPOSTA: **4**

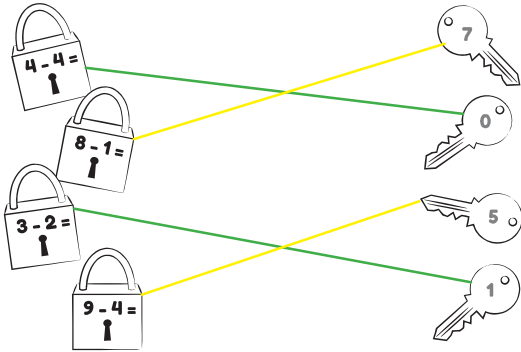
tilibra

OBSERVE AS FIGURAS, FAÇA A CONTAGEM E UTILIZE A SUBTRAÇÃO PARA REALIZAR A ATIVIDADE. DESENHE AS RESPOSTAS. CAPRICHE!



tilibra

FAÇA AS CONTINHAS PARA DESCOBRIR QUAL É A CHAVE CERTA PARA ABRIR CADA CADEADO.



tilibra

CONTINUE TREINANDO AS SUBTRAÇÕES. ESTÁ FICANDO CADA VEZ MAIS FÁCIL, NÃO ESTÁ?

$10 - 7 = 3$

$6 - 5 = 1$

$3 - 1 = 2$

$6 - 2 = 4$

$1 - 1 = 0$

AGORA, ESCREVA OS NUMERAIS DE 0 ATÉ 20, DO MENOR PARA O MAIOR. EU JÁ COMECEI:

0 - 1 - 2 - 3 - 4 - 5 - 6 - 7 - 8 - 9 - 10 - 11 - 12 - 13 - 14 - 15 - 16 - 17 - 18 - 19 - 20

tilibra

VAMOS FAZER UMA DELICIOSA RECEITA? CHAME UM ADULTO PARA TE AJUDAR!

BRIGADEIRO

INGREDIENTES

- 1 LATA DE LEITE CONDENSADO
- 2 COLHERES DE MANTEIGA
- 4 COLHERES DE CHOCOLATE EM PÓ
- 1 PACOTE DE CHOCOLATE GRANULADO

MODO DE FAZER

EM UM RECIPIENTE, ADICIONE LEITE CONDENSADO, MANTEIGA E O CHOCOLATE EM PÓ. DEPOIS, PEÇA PARA UM ADULTO COLOCAR TUDO EM UMA PANELA E LEVAR AO FOGO BAIXO, MEXENDO SEMPRE, ATÉ A MISTURA DESPRENDER DO FUNDO. EM SEGUIDA, O ADULTO DEVE RETIRAR O BRIGADEIRO DO FOGO E DESPEJÁ-LO EM UM PRATO UNTADO. ESPEREM ESFRIAR, PARA FINALIZAR, PEGUEM O BRIGADEIRO, FAÇAM BOLINHAS E ACRESCENTEM O GRANULADO.

MUITO BEM! AGORA, VAMOS DESENHAR AS HIPÓTESES MATEMÁTICAS: SE VOCÊ FOSSE FAZER DUAS RECEITAS DE BRIGADEIRO, QUAL SERIA A QUANTIDADE DE LEITE CONDENSADO NECESSÁRIA? E QUANTAS DE CHOCOLATE EM PÓ?

2 LATAS

8 COLHERES

QUANTAS COLHERES DE MANTEIGA PRECISARIA USAR:

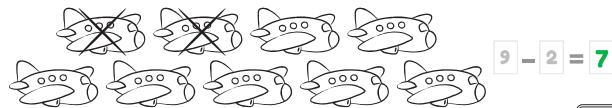
SE DESEJASSE QUE O BRIGADEIRO FOSSE MAIS CLARO E DIMINUISSE DUAS COLHERES DE ACHOCOLATADO DA RECEITA ATUAL, QUANTAS COLHERES PRECISARIA?

4 COLHERES

8-2= 6 COLHERES


tilibra

RESOLVA AS SUBTRAÇÕES:



tilibra

JÁ TERMINOU? ENTÃO, VAMOS EM FRENTE! CONTINUE SUBTRAINDO.



tilibra

SABE AQUELA BORBOLETINHA FAMOSA QUE FICA NA COZINHA FAZENDO CHOCOLATE PARA A MADRINHA? ELA RESOLVEU TROCAR DE RECEITA. AGORA, IRÁ FAZER UMA SALADA DE FRUTAS COM:

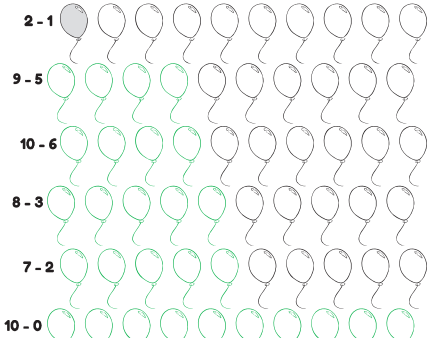
- 2 BANANAS
- 2 MAÇÃS
- 3 PERAS
- 6 MORANGOS

AJUDE A BORBOLETINHA A PEGAR A QUANTIDADE NECESSÁRIA NA GELADEIRA E A CALCULAR QUANTAS FRUTAS VÃO SOBRRAR PARA UMA PRÓXIMA RECEITA. PARA ISSO, FAÇA AS CONTINHAS E REGISTRE AS OPERAÇÕES DE SUBTRAÇÃO ABAIXO.



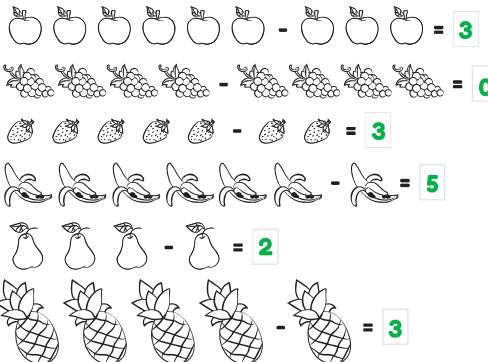
tilibra

RESOLVA AS OPERAÇÕES PINTANDO A QUANTIDADE CERTA DE BALÕES.



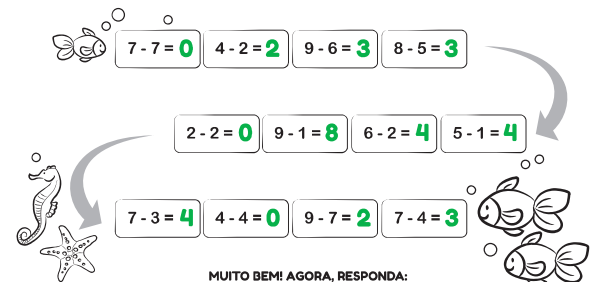
tilibra

CALCULE AS SUBTRAÇÕES E COLOQUE OS RESULTADOS NOS QUADRINHOS:



tilibra

O PEIXINHO ESTÁ PERDIDO. VAMOS AJUDÁ-LO A ENCONTRAR OS PAIS DELE? FAÇA AS CONTINHAS DE SUBTRAÇÃO PARA ACHAR O CAMINHO.



MUITO BEM! AGORA, RESPONDA:

1- QUAL SENTENÇA MATEMÁTICA TEM O MAIOR RESULTADO?

9-1=8

2- QUAL SENTENÇA MATEMÁTICA TEM O MENOR RESULTADO?


7-7=0 / 2-2=0 / 4-4=0

tilibra

RESOLVA AS CONTAS PARA DESCOBRIR A COR DE CADA ESTRELINHA.
DEPOIS, PINTE DE ACORDO COM A INDICAÇÃO ABAIXO.

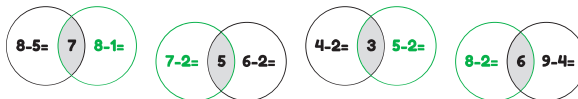
RESULTADO 5= AZUL
RESULTADO 4= VERMELHO

RESULTADO 8= VERDE
RESULTADO 3= AMARELO



tilbra

PINTE A OPERAÇÃO QUE CORRESPONDE A CADA RESULTADO DESTACADO:



VAMOS AVANÇAR MAIS UM POUQUO? É SÓ FAZER A CONTAGEM E COLOCAR O RESULTADO:



$$12 - 4 = 8$$



$$16 - 5 = 11$$

tilbra